



Сурагчийн нэр:

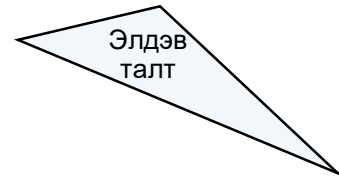
Эхэлсэн: он сар өдөр



Гурван тал нь тэнцүү

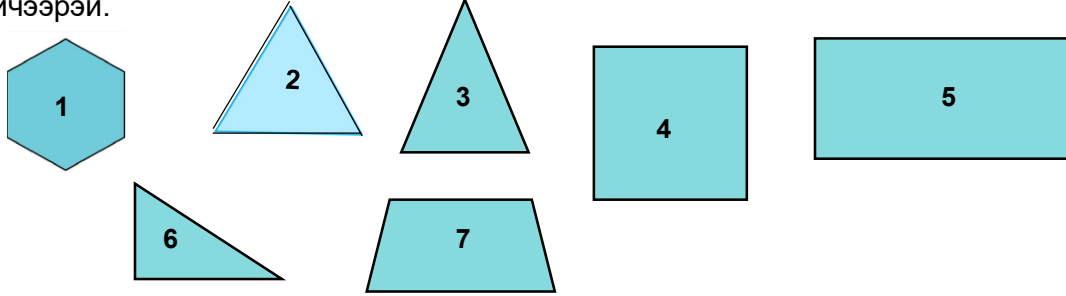


Хоёр тал нь л тэнцүү



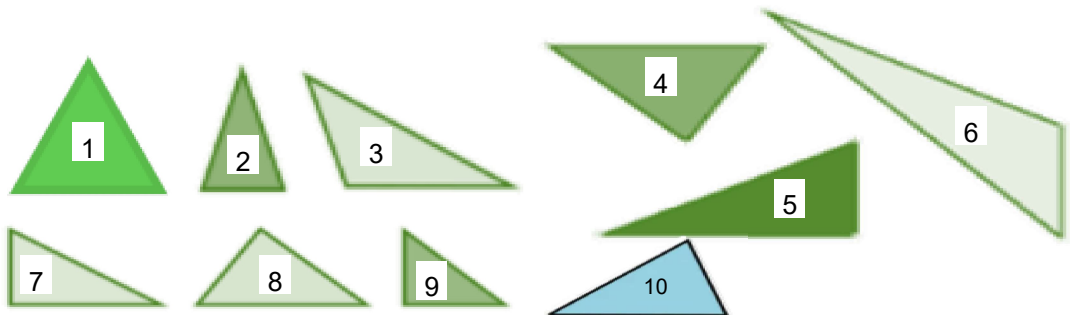
Гурван тал нь тэнцүү биш

1 Хүснэгтийг ашиглан өгсөн дүрсүүдийг ангилж, тохирох нүдэнд дугааруудыг нь бичээрэй.



	Зөв	Зөв биш
Гурвалжин		
Гурвалжин биш		

2 Гурвалжин дүрсүүдийг ангилж, хүснэгтийн тохирох нүдэнд дугаарыг нь бичээрэй.



	Хурц өнцөгт гурвалжин	Тэгш өнцөгт гурвалжин	Мохоо өнцөгт гурвалжин
Гурвалжин			

Дууссан:сарөдөр

	Даалгавар	1	2
	Өөрийн үнэлгээ		



Сурагчийн нэр:

Эхэлсэн: он сар өдөр

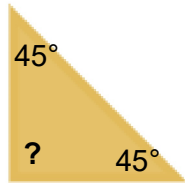


Гурвалжны дотоод өнцгүүдийн нийлбэр 180° байна

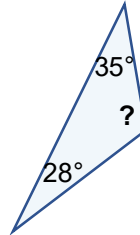
Дөрвөн өнцөгтийн дотоод өнцгүүдийн нийлбэр 360° байна.

1 Гурвалжны мэдэгдэхгүй байгаа өнцгийн хэмжээг олоорой.

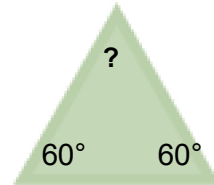
а.



б.



в.




2 Гурвалжны өнцгүүд 30° , 60° , 90° хэмжээтэй бол ямар гурвалжин болох вэ?

А. Хурц өнцөгт гурвалжин

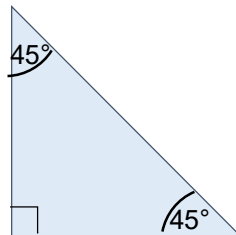
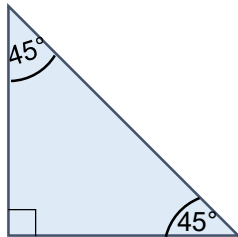
Б. Мохоо өнцөгт гурвалжин

В. Тэгш өнцөгт гурвалжин

3 Мохоо өнцөгт гурвалжин зураарай.





4 Өгсөн хоёр гурвалжнаар квадрат бүтээж, дотоод өнцгүүдийн нийлбэрийг олоорой.



Хариу: _____

5 Тэгш өнцөгтийн дотоод өнцгүүдийн нийлбэрийг олоорой.



Хариу: _____

Дууссан:сарөдөр



Даалгавар	1	2	3	4	5
Өөрийн үнэлгээ	😊	😊	😊	😊	😊



Сурагчийн нэр:

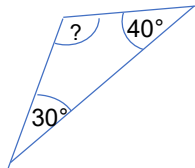
Эхэлсэн: он сар өдөр

1 Гурвалжны дотоод өнцгүүдийн нийлбэртэй тэнцүү хэмжээтэй өнцгийг сонгоорой.

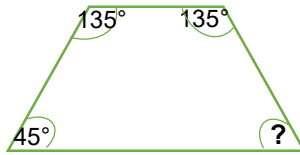
А. Мохоо өнцөг Б. Тэгш өнцөг В. Дэлгэмэл өнцөг Г. Хурц өнцөг

2 Дүрсийн мэдэгдэхгүй байгаа өнцгийг олж, хариугаа шалгаарай.

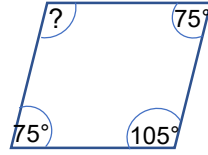
а.




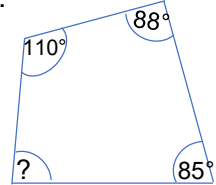
б.



в.



г.



Хариу: а ____

б ____

в ____

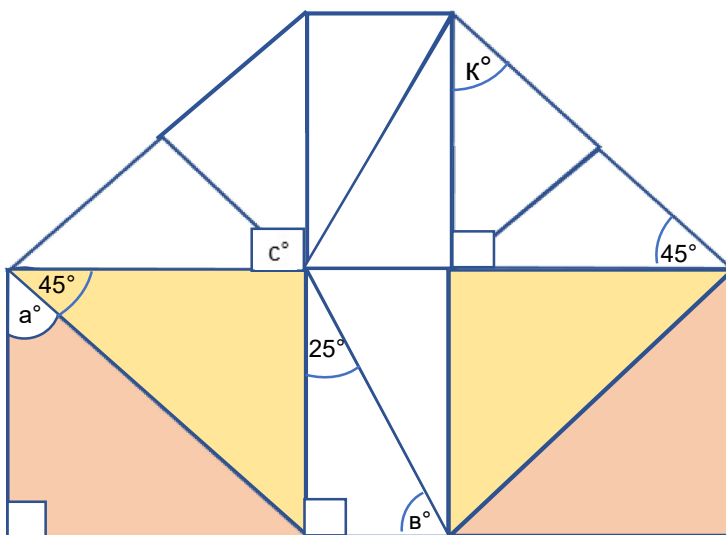
г ____

3 Өгүүлбэрийг гүйцээгээрэй.


Ямар ч гурвалжны дотоод өнцгүүдийн нийлбэр _____ байна.

Ямар ч дөрвөн өнцөгтийн дотоод өнцгүүдийн нийлбэр _____ байна.

4 Дараах дүрсийн үсгээр тэмдэглэсэн өнцгүүдийн хэмжээг олоод, тохирох үсгийн ард бичээрэй.



Бодолт:



Хариу: а = ____ в = ____ с = ____ к = ____

Дууссан:сарөдөр



Даалгавар	1	2	3	4
Өөрийн үнэлгээ	☹️	☹️	☹️	☹️